


2. Feladat:

Mennyi pénz van az erszényekben? Írd az ábrák alá! Írd fel növekvő sorrendbe is!




2 százás
3 tízes
0 egyes




2 százás
0 tízes
10 egyes



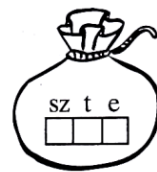
1 százás
10 tízes
10 egyes



1 százás
1 tízes
20 egyes



1 százás
10 tízes
0 egyes



1 százás
13 tízes
15 egyes

Sorrend: _____

Elérhető: 7 pont

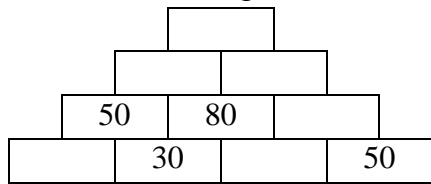
3. Feladat

Az egyik házban 50 férfi, 47 nő és 22 gyerek lakik. a másikban kétszer annyian. Hányan laknak a harmadik házban, ha a három házban összesen 500 ember lakik?

Elérhető: 8 pont

4. Feladat:

Írd be a számpiramisba a hiányzó számokat! A piramis felső szintjén lévő téglára írt szám egyenlő az alatta lévő két téglára írt számok összegével.



Elérhető: 6 pont

5. Feladat:

Anna az iskola büféjében 75. Ft-ért. akart vásárolni pogácsát, de elfelejtette vinni a pénztárcáját, ezért az övét is a barátnője fizette ki. Mennyit fizetett a barátnője, ha ő magának 145.Ft-tal. többért kapott szendvicset? Mennyit kapott vissza, ha egy 200 és egy 100 forintossal fizetett?

Elérhető: 7 pont

6. Feladat:

Rendezd sorba a hordókat a benne levő víz mennyisége szerint!



Elérhető: 6 pont