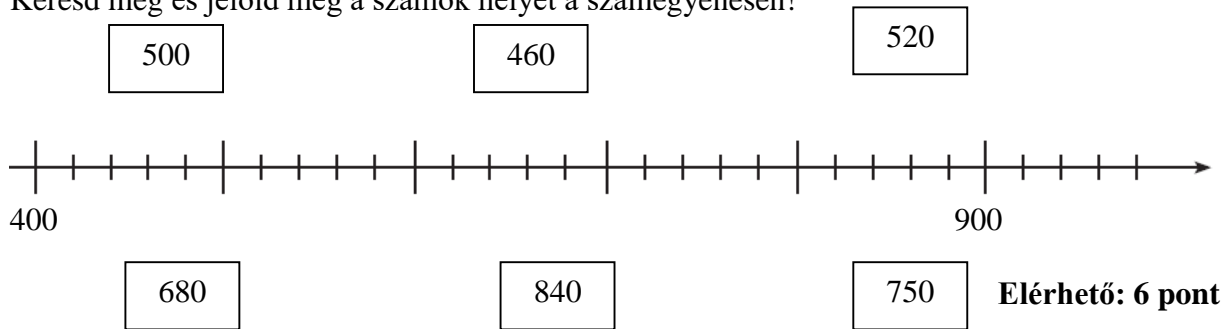


2. Feladat:

Keresd meg és jelöld meg a számok helyét a számegyenesen!



Elérhető: 6 pont

3. Feladat

Elvetettek 60 kg kölest és 3-szor kevesebb rozst, kukoricából pedig 2-szer többet, mint kölest és rozst összesen. Mennyit vetettek el összesen?

Elérhető: 4 pont

4. Feladat:

Mi lehet a szabály? Egészítsd ki a táblázatot! Írd le a szabályt!


\square	8	18	8	5	2	
\otimes	10	1	3	9		9
R	120	58	64		56	76


$\text{R} = \dots\dots\dots$


Elérhető: 7 pont


5. Feladat:

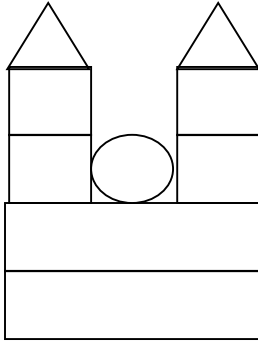
Mennyit ér a vár?

 = 100

 = 300

 = 50

 = 70



Elérhető: 6 pont

6. Feladat:

Egy hordóban 60 liter víz volt. Hány liter víz maradt a hordóban, ha a virágok locsolásához a hat literes vödörrel nyolcszor mertek ki belőle?

Elérhető: 4 pont