

A feladatokat írta:

Erdei-Sándor Tímea, Nyíregyháza

Lektorálta:

Dr. Mari László, Budapest



Csapat tagjai:

Iskola:

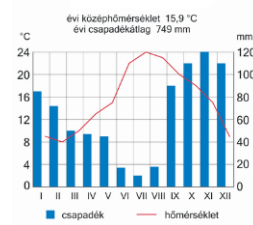
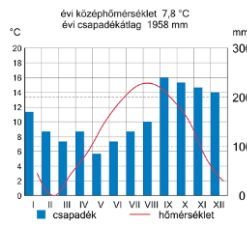
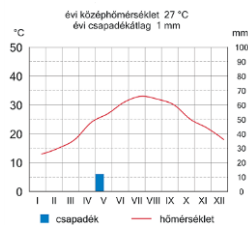
Beküldési határidő: 2018. január 15.

Curie Környezetvédelmi Emlékverseny 7-8. osztály III. forduló Az éghajlat és a víz kapcsolata Duna-Dráva Nemzeti Park

1. feladat

12 pont

Elemezd az alábbi éghajlati diagramokat! Nevezd meg, hogy a grafikonok alapján felismert éghajlatra, milyen csapadékeloszlás és a folyókon milyen vízjárás jellemző! (éghajlat 1 pont, a többi helyes válasz 0,5 pont)



éghajlat neve:

csapadék eloszlása:

folyók vízjárása:

.....

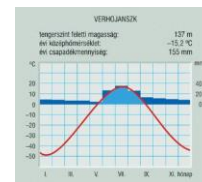
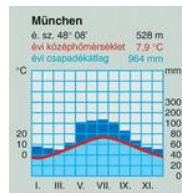
.....

.....

.....

.....

.....



éghajlat neve:

csapadék eloszlása:

folyók vízjárása:

.....

.....

.....

.....

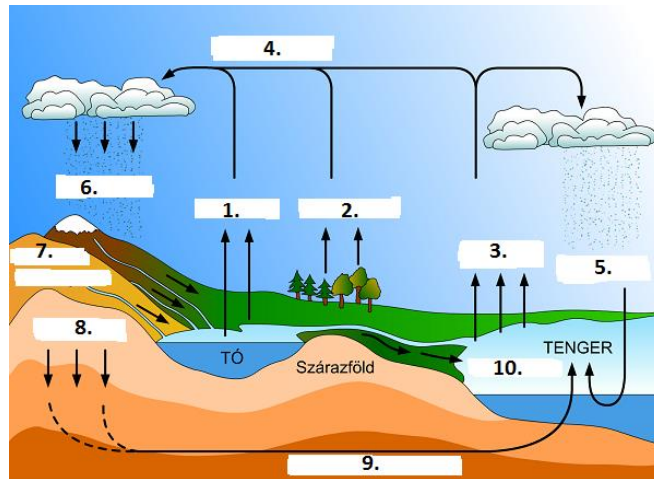
.....

.....

2. feladat**5 pont**

A víz körforgása látható a képen. Egészítsd ki helyesen az ábrát! Írd a vonalra a folyamatokat!

1.
2.
3.
4.
5.
6.
7.
8.
9.
10.

**3. feladat****5 pont**

Mely fogalmakra utalnak az alábbi meghatározások? Nevezd meg!

1. A tengervíz tartósan egy irányba haladó mozgása.
2. Apró jégkristályokból álló csapadék; éjszakai lehűléskor a kicsapódott pára megfagyásakor keletkezik.
3. Melegvizes forrás, mely többnyire szabályos időközönként kitör, és vizet, illetve vízgőzt juttat szökőkútszerűen a levegőbe.
4. Hóból kialakult jégtömeg, ami a nagy mennyiségű hó saját súlyának nyomása, az alacsony hőmérséklet és a terepviszonyoknak megfelelően lassú, folyamatos csúszó mozgást végez.
5. Valamely hely vagy földrajzi táj hosszú távra jellemző időjárási viszonyainak összessége, az időjárás elemeinek hosszabb időn át történő ismétlődése.

4. feladat**8 pont**

Egészítsd ki az éghajlattal és vízzel kapcsolatos szólásokat, közmondásokat!

1. Őszi vizet, szél utat
2. napján, ha a lúd jár, akkor poroszkál.
3. Ha az eláztatta, a majd megszáritja.
4. Ha megcsordul az eszterháj, az íziket rakjátok el, mert még hosszú lesz a
5. Ha Bálint napján, az idő, akkor jó lesz a termés.
6. Szent Mihály lova, hozza már a

5. feladat

10 pont

Miről híres a Duna-Dráva Nemzeti Park? Írd a képek alá, hogy mit ábrázolnak (építmény, természeti képződmény neve) illetve, hogy a nemzeti park mely területi egységéhez vagy tájvédelmi körzetéhez tartoznak!



.....
.....



.....
.....



.....
.....



.....
.....



.....
.....

Felhasznált irodalom

Földrajz Tk. 7.-8. o. Mozaik Kiadó

Wikipédia: a víz körforgása, népi megfigyelések, Duna-Dráva Nemzeti Park

